

# 计算机基础考前冲刺卷(一)

一、单项选择题(下列各题仅有一个正确答案,请将答案填写在答题卷上。本题共 35 小题,每小题 1 分,共 35 分)

1. 第一台数字电子计算机( )在美国宾夕法尼亚大学诞生。  
A. EDVAC      B. ENIAC      C. EDSAC      D. 银河 I 号
2. 计算机能够直接执行的程序是( )。  
A. 源程序      B. 机器语言程序  
C. 汇编语言程序      D. PASCAL 语言程序
3. 计算机系统的核心是( )。  
A. 存储器      B. 运算器      C. 控制器      D. CPU
4. 内存条插在主板的( )上。  
A. CPU      B. 机箱      C. 显示卡      D. 内存条插槽
5. 按使用器件划分计算机发展史,当前使用的微型计算机是( )计算机。  
A. 集成电路      B. 晶体管  
C. 电子管      D. 超大规模集成电路
6. 智能检索系统是计算机在( )方面的研究。  
A. 计算机辅助设计      B. 数据处理  
C. 人工智能      D. 多媒体技术
7. 以下各进制数中,数值最大的是( )。  
A. 58H      B. 60D      C. 21B      D. 72O
8. 通常所说“64 位微机”中的 64 位指的是( )。  
A. 微机型号      B. 字长      C. 内存容量      D. 存储单位
9. 计算机的主频指的是( ),用 Hz 表示。  
A. 硬盘读写速度      B. 软盘读写速度  
C. 显示器输出速度      D. 时钟频率
10. 某汉字的区位码是 5448,它的机内码是( )。  
A. D6 D0H      B. E5 E0H      C. E5 D0H      D. D5 E0H
11. 在 16×16 点阵的汉字字库中,存储一个汉字的字模信息需要( )个字节。  
A. 256      B. 128      C. 64      D. 32
12. 下列设备中,属于输入设备的是( )。  
A. 扫描仪      B. 显示器      C. 音箱      D. 打印机

13. Windows 为用户提供的环境是( )。  
A. 单用户,单任务      B. 单用户,多任务  
C. 多用户,单任务      D. 多用户,多任务
14. 下列关于磁盘的根目录的描述中,不正确的是( )。  
A. 同一个磁盘可创建多个根目录  
B. 根目录在磁盘格式化时产生  
C. 磁盘的第一级文件夹称为根文件夹,也称为根目录  
D. 根目录既可以存放文件也可以存放文件夹
15. 在 Windows 中打开一个窗口后,通常在其顶部有一个( )。  
A. 标题栏      B. 任务栏      C. 状态栏      D. 工具栏
16. 下列有关 Windows 菜单命令的说法中,不正确的是( )。  
A. 命令前带有符号“√”表示该命令有效  
B. 带省略号(…)的命令执行后会打开一个对话框  
C. 命令呈暗淡的颜色,表示相应的程序被破坏  
D. 当鼠标指向带黑三角符号的菜单项时,会弹出相关级联菜单
17. 在 Windows 7 中,“回收站”中的文件或文件夹仍然保存在( )中。  
A. 内存      B. 硬盘      C. 光盘      D. 软盘
18. 在 Windows 7 中,将文件在不同驱动器之间移动,应使用的操作为( )。  
A. 鼠标直接拖动  
B. 按住 Ctrl 键+鼠标拖动  
C. 按住 Shift 键+鼠标拖动  
D. 选定要移动的文件后按 Ctrl+C 组合键,再打开目标文件夹按 Ctrl+V 组合键
19. 在 Word 2010 编辑状态下,使选定的文本加粗的是( )组合键。  
A. Ctrl+H      B. Ctrl+I      C. Ctrl+B      D. Ctrl+U
20. 在使用 Word 文本编辑软件时,要把已输入的文章中所有出现的“人工智能”一次性全部改成“AI”,应选择的命令是( )。  
A. 英文转换      B. 改写      C. 自动更正      D. 替换
21. 在 Word 2010 中,需要调整纸张大小,应选择( )选项卡。  
A. “插入”      B. “工具”      C. “页面布局”      D. “视图”
22. 在 Word 2010 中,若需要改变选定的文字间距,则应( )。  
A. 打开“字体”对话框      B. 打开“段落”对话框  
C. 在工具栏区单击鼠标右键      D. 利用常用工具栏
23. 在 Excel 2010 中的某单元格内输入“3/4”以后,该单元格显示的结果是( )。  
A. =3/4      B. 3/4      C. 3 月 4 日      D. 0.75
24. 在 Excel 2010 中,单元格 A1 中的内容是 12,单元格 B1 中的内容是 2,在单元格 A2 中输入“A1+B1”,则在单元格 A2 中显示( )。  
A. 14      B. 12      C. 12+2      D. A1+B1

25. 在 Excel 2010 中,在默认状态下输入文本内容,则其水平对齐方式为( )。

- A. 左对齐      B. 居中      C. 上对齐      D. 右对齐

26. 在 Excel 2010 中,将单元格 E1 中的公式 SUM(A1:D1)复制到单元格 E2 中,则单元格 E2 中的公式应为( )。

- A. SUM(A1;D1)      B. SUM(B1;E1)  
C. SUM(A2;D2)      D. SUM(A2;E1)

27. 演示文稿与幻灯片之间的关系是( )。

- A. 幻灯片由若干个演示文稿组成      B. 演示文稿由若干张幻灯片组成  
C. 演示文稿和幻灯片是同一个对象      D. 两者之间没有关系

28. 选中一张幻灯片,然后按住鼠标左键并拖动到其他位置,是对幻灯片进行( )操作。

- A. 移动      B. 复制      C. 删除      D. 插入

29. 可以在 PowerPoint 2010 显示文稿中插入图表,目的是( )。

- A. 可视化地显示文本      B. 演示和比较数据  
C. 显示一个组织结构图      D. 说明一个进程

30. 要在幻灯片中插入表格、图片、艺术字、视频、音频等元素时,应在“( )”选项卡中操作。

- A. 文件      B. 开始      C. 插入      D. 设计

31. 下列有关 IP 地址的说法不正确的是( )。

- A. IP 地址是联网主机的网络号      B. IP 地址可由用户任意指定  
C. IP 地址由主机名和域名组成      D. IP 地址由 32 个二进制位组成

32. 以下属于 B 类 IP 地址的是( )。

- A. 126. 250. 10. 33      B. 129. 10. 2. 11  
C. 220. 101. 1. 1      D. 206. 255. 10. 101

33. 下列选项中,为中国的顶级域名的是( )。

- A. .cn      B. .ch      C. .chn      D. .china

34. 下列网络设备中,能够对传输的数据包进行路径选择的是( )。

- A. 路由器      B. 集线器      C. 网卡      D. 中继器

35. 计算机软件著作权法保护的内容不包括( )。

- A. 程序      B. 文档      C. 构思      D. 产品说明书

**二、多项选择题(下列各题至少有两个正确答案,请将答案完整地写在答题卷上,少选或多选均不得分。本题共 10 小题,每小题 2 分,共 20 分)**

1. 微型计算机系统包含( )部分。

- A. 硬件系统      B. 信息系统      C. 软件系统      D. 系统软件

2. 根据计算机的用途划分,可将计算机分为( )。

- A. 模拟计算机      B. 数字计算机      C. 通用计算机      D. 专用计算机

3. 以下关于 Windows 中“任务栏”的说法中,正确的有( )。

- A. 在“任务栏”中有“开始”按钮  
B. 当关闭“程序”窗口时,“任务栏”也随之消失

C. 通过“任务栏”可实现任务切换

D. “任务栏”始终显示在屏幕底端

4. 已知英文小写字母 a 的 ASCII 码为十六进制数 61H,则英文小写字母 d 的 ASCII 码为( )。

- A. 1100100B      B. 124O      C. 64H      D. 24H

5. 关于 Word 文档的“保存”与“另存为”命令,下列叙述中正确的有( )。

- A. 保存新文档时,“保存”与“另存为”的作用相同  
B. 保存旧文档时,“保存”与“另存为”的作用不同  
C. “保存”命令只能保存新文档,“另存为”命令只能保存旧文档  
D. 利用 Word 保存的任何文档,都无法再用写字板打开

6. 在 Excel 2010 中,文本可以是( )。

- A. 字母      B. 汉字      C. 空格      D. 数字

7. 在 PowerPoint 2010 放映演示文稿时,要切换到下一张幻灯片,正确的操作包括( )。

- A. 按 Tab 键      B. 按 Enter 键      C. 按 Space 键      D. 单击鼠标左键

8. 下列属于视频文件格式的有( )。

- A. MIDI      B. MP4      C. AVI      D. WMA

9. 常用的网络互联设备有( )。

- A. 中继器      B. Modem      C. 网桥      D. 网关

10. 人为的恶意攻击分为被动攻击和主动攻击,以下攻击类型中属于主动攻击的有( )。

- A. 数据窃听      B. 数据篡改及破坏      C. 身份假冒      D. 数据流分析

**三、判断题(下列各题正确的打√,错误的打×,请将答案填写在答题卷上。本题共 15 小题,每小题 1 分,共 15 分)**

1. 目前计算机应用最广泛的领域是科学计算。 ( )

2. 大写英文字母的 ASCII 码值要比小写英文字母的 ASCII 码值大 32。 ( )

3. 汇编语言是独立于机器的语言,可移植性较好。 ( )

4. 在汉字输入法中,区位码输入法不存在重码。 ( )

5. Windows 7 系统中提供了两种通配符,即“?”和“#”。 ( )

6. Windows 7 系统中的“开始”菜单不能自行定义。 ( )

7. 当一个文档窗口被关闭后,该文档既保存在外存,也保存在内存中。 ( )

8. 在 Word 2010 中,使用“自动更正”功能可以自动替换字符或文本。 ( )

9. 在 Excel 2010 中,复制或移动单元格会将目标位置单元格区域中的内容向左或者向上移动,然后将新的内容插入到目标位置的单元格区域。 ( )

10. 在 Excel 2010 中,2. 67E+1 表示  $2.67 \times 10^1$ 。 ( )

11. 在 PowerPoint 中,背景可用于对每张幻灯片的预设内容和格式进行设置。 ( )

12. 图像可分为矢量图和位图,其中矢量图形由一组指令组成。 ( )

13. 网络传输介质中,传输速率最高的是光纤。 ( )

14. IP 地址 202. 198. 7. 21 属于 C 类地址。 ( )

15. 计算机病毒可通过网络和 U 盘传播。 ( )

**四、填空题(请将答案填写在答题卷上。本题共 15 小题,每小题 1 分,共 15 分)**

1. 访问一次内存储器所花的时间称为\_\_\_\_\_。
2. 计算机可辨别的最小数据单位是\_\_\_\_\_。
3. 在 Windows 环境中,鼠标主要有三种操作方式,即单击、双击和\_\_\_\_\_。
4. \_\_\_\_\_是计算机各功能部件之间传送信息的公共通信干线,是由导线组成的传输线束。
5. MPEG 是一种图像压缩标准,其含义是\_\_\_\_\_。
6. Internet 采用的标准网络协议是\_\_\_\_\_。
7. \_\_\_\_\_是判断任意两台计算机的 IP 地址是否属于同一子网的根据。
8. 在 Excel 2010 工作簿中,默认的工作表个数是\_\_\_\_\_。
9. 在 PowerPoint 2010 中添加新幻灯片,可使用\_\_\_\_\_组合键。
10. PowerPoint 提供了三种放映方式,其中默认的放映方式是\_\_\_\_\_。
11. 计算机安全中受到威胁的来源主要有有人为、自然、\_\_\_\_\_本身 3 种。
12. MP3 是网络中常用的数字音乐格式,它属于\_\_\_\_\_ (有损/无损)压缩格式。
13. 在 HTML 中,创建超链接的使用标记是\_\_\_\_\_。
14. Internet 是将人与人之间连接起来,由 Internet 延伸出的物联网实现了\_\_\_\_\_之间的连接。
15. \_\_\_\_\_就是在信息活动领域中,利用计算机信息系统或计算机信息知识作为手段,或者针对计算机信息系统,对国家、团体或个人造成危害,依据法律规定,应当予以刑罚处罚的行为。

**五、综合应用题(请将答案填写在答题卷上。本题共 3 小题,每小题 5 分,共 15 分)**

1. 屏幕保护程序的作用是什么? 如何设置屏幕保护程序?

2. 什么是超链接? 在 PowerPoint 中可以作为超链接索引的对象有哪些?

3. 如下图所示的 Excel 数据表,已输入 10 份问卷调查数据,每套问卷 8 道题,每道题有 A、B、C、D 四个备选项,要求统计出全部问卷每道题选择 A、B、C、D 的数量和百分比,并呈现在数据表已有数据的下方,请完成:

- (1)单元格 B12 的公式是\_\_\_\_\_;(1 分)
- (2)单元格 B13 的公式是\_\_\_\_\_;(1 分)
- (3)单元格 B16 的公式是\_\_\_\_\_;(1 分)
- (4)单元格 B17 的公式是\_\_\_\_\_;(1 分)
- (5)其余单元格公式生成的操作方法是\_\_\_\_\_。(1 分)

	A	B	C	D	E	F	G	H	I
1		第1题	第2题	第3题	第4题	第5题	第6题	第7题	第8题
2	问卷1	A	A	D	C	D	C	D	B
3	问卷2	A	B		D	C	C	D	D
4	问卷3			B	A	C	D	B	C
5	问卷4	B	C	B	D		A	D	YYY
6	问卷5	A	C	X	A	A	C	D	A
7	问卷6	D	A	D	B	D	C	A	C
8	问卷7		A	D	A	C	B	D	CCC
9	问卷8	A	D	A	B	D	D	A	D
10	问卷9	B	B	B	B	B	B		C
11	问卷10	D	B	C	A	D	A	A	D
12	选A的数量	4	3	1	4	1	2	3	1
13	选B的数量	2	3	3	3	1	2	1	1
14	选C的数量	0	2	1	1	3	4	0	3
15	选D的数量	2	1	3	2	4	2	5	3
16	有效选项数	8	9	8	10	9	10	9	8
17	选A的比例	50.00%	33.33%	12.50%	40.00%	11.11%	20.00%	33.33%	12.50%
18	选B的比例	25.00%	33.33%	37.50%	30.00%	11.11%	20.00%	11.11%	12.50%
19	选C的比例	0.00%	22.22%	12.50%	10.00%	33.33%	40.00%	0.00%	37.50%
20	选D的比例	25.00%	11.11%	37.50%	20.00%	44.44%	20.00%	55.56%	37.50%

## 计算机基础考前冲刺卷(二)

一、单项选择题(下列各题仅有一个正确答案,请将答案填写在答题卷上。本题共 35 小题,每小题 1 分,共 35 分)

- 世界上第一台电子计算机诞生于( )年。  
A. 1942 B. 1946 C. 1949 D. 1956
- 计算机中的字节是个常用的单位,它的英文名字是( )。  
A. bit B. byte C. bout D. baud
- 办公自动化(OA)是计算机的一项应用,按计算机应用分类,它属于( )。  
A. 辅助设计 B. 科学计算 C. 实时控制 D. 数据处理
- 假设某台式计算机内存储器的容量为 1 KB,其最后一个字节的地址是( )。  
A. 10 23H B. 10 24H C. 04 00H D. 03 FFH
- 下列四组数依次为二进制、八进制和十六进制,符合要求的是( )。  
A. 12,78,97 B. 10,77,98 C. 11,78,19 D. 12,77,15
- 十六进制数 1000 转换成十进制数是( )。  
A. 8 192 B. 4 096 C. 1 024 D. 2 048
- 在下列字符中,其 ASCII 码值最小的一个是( )。  
A. 空格字符 B. 0 C. A D. a
- 两个二进制数 1110011 和 100111 相加的结果是( )。  
A. 11000001 B. 10001011 C. 11100011 D. 10011010
- 下列运算符中,具有最高优先级的是( )。  
A. + B. & C. ; D. =
- 微型计算机的主机主要是由( )两大部分组成。  
A. 微处理器和寄存器 B. 微处理器和指令译码器  
C. 内存储器和指令译码器 D. 微处理器和内部存储器
- 条形码阅读器是( )。  
A. 寄存器 B. 输入设备 C. 输出设备 D. 存储器
- 高清晰度的多媒体接口是( )。  
A. USB B. VGA C. RJ-45 D. HDMI
- 下列选项中,属于击打式打印机的是( )。  
A. 针式打印机 B. 激光打印机  
C. 热喷墨打印机 D. 喷墨打印机
- 下列设备中,不属于输出设备的是( )。  
A. 打印机 B. 显示器 C. 鼠标 D. 绘图仪

- 计算机软件系统包括( )。  
A. 程序、数据和相关的文档 B. 系统软件和应用软件  
C. 数据库管理系统和数据库 D. 编译系统和办公软件
- 在 Windows 资源管理器中,查看图片文件最好使用( )窗口显示模式。  
A. 缩略图 B. 大图标 C. 小图标 D. 详细资料
- 关于 Windows 系统中的用户账户,下列说法错误的是( )。  
A. 用户账户有管理员账户、受限账户及来宾账户,不同账户类型有不同的操作权限  
B. 计算机管理员账户可更改所有计算机设置  
C. 受限账户只许用户更改本用户的设置  
D. 所有用户账户登录的用户的“我的文档”文件夹内容一样
- 在 Windows 7 中,若将一个文件的属性设置为“只读”,则无法对该文件进行( )操作。  
A. 修改属性 B. 移动 C. 删除 D. 修改内容
- 在 Word 2010 中,可以很直观地改变段落的缩进方式,调整左右边界和改变表格的列宽,应该利用( )。  
A. 字体 B. 样式 C. 标尺 D. 编辑
- 在 Word 2010 中,可以通过按( )键删除插入点后面的字符。  
A. Insert B. Delete C. Enter D. Backspace
- 在 Word 2010 中,( )可用于控制文档在屏幕上的显示大小。  
A. 全屏显示 B. 页面显示 C. 缩放显示 D. 显示比例
- 在 Excel 2010 中,单元格显示一串字符“#####”的原因可能是( )。  
A. 数据类型错误 B. 单元格当前宽度不够  
C. 公式引用错误 D. 单元格当前高度不够
- 在 Excel 2010 中,若对工作表中的记录进行筛选操作,下列说法错误的是( )。  
A. 打印时不会被打印 B. 被暂时隐藏,可恢复  
C. 筛选掉的记录永远丢失 D. 在预览时不会被显示
- 在 Excel 2010 中复制公式时,为使公式中的( ),必须使用相对地址。  
A. 单元格地址随新位置有规律变化  
B. 单元格地址不随新位置而变化  
C. 单元格范围不随新位置而变化  
D. 单元格范围随新位置无规律变化
- PowerPoint 中,在当前编辑的演示文稿中插入新幻灯片应使用“( )”选项卡。  
A. 视图 B. 插入 C. 文件 D. 开始
- 在 PowerPoint 2010 中,为幻灯片中设置切换效果时,可以添加( )。  
A. 文字 B. 图片 C. 声音 D. 视频
- 在 PowerPoint 2010 中,若想同时查看多张幻灯片,应选择( )视图。  
A. 备注页 B. 大纲 C. 幻灯片 D. 幻灯片浏览
- 与 IP 地址 192.168.0.1,子网掩码 255.255.255.0,同网段主机的 IP 地址是( )。  
A. 192.168.0.0 B. 192.168.0.2  
C. 192.168.1.0 D. 192.168.12

29. 当电子邮件到达时,若收件人没有开机,该邮件将( )。
- A. 自动退回给发件人                      B. 保存在 E-mail 服务器上  
C. 开机时对方重新发送                      D. 该邮件丢失
30. 已知用户登录名为 hzt,用户所在的邮件服务器名为 126.com,则正确的电子邮件地址是( )。
- A. @hzt.126.com                              B. 126.com@ hzt  
C. @126.com. hzt                              D. hzt@126.com
31. 使用( )命令用于检查当前 TCP/IP 网络中的配置情况,可显示本机的主机名、物理地址等配置参数。
- A. ipconfig                      B. cmd                      C. ping                      D. tracert
32. 调制解调器(Modem)的作用是实现( )。
- A. 数字信号与模拟信号的相互转换  
B. 只能将数字信号转换成模拟信号  
C. 只能将模拟信号还原成数字信号  
D. 数字信号的放大
33. WMV 文件属于( )多媒体文件。
- A. 音频                      B. 乐器数字                      C. 动画                      D. 数字视频
34. 下列常见的网络威胁中,不属于信息泄露的是( )。
- A. 数据窃听                      B. 种入木马                      C. 拒绝服务攻击                      D. 偷窃用户账号
35. E-R 方法是( )方法的简称。
- A. 编码-联系                      B. 实体-关系                      C. 编码-关系                      D. 有效-运行

**二、多项选择题(下列各题至少有两个正确答案,请将答案完整地写在答题卷上,少选或多选均不得分。本题共 10 小题,每小题 2 分,共 20 分)**

1. 下列属于计算机输入设备的有( )。
- A. 手写板                      B. 扫描仪                      C. 鼠标                      D. 打印机
2. 下列计算机软件中,属于系统软件的有( )。
- A. 操作系统                      B. 编译程序                      C. 连接程序                      D. ERP 系统
3. 关于显示器设置的描述中,错误的有( )。
- A. 桌面背景可以改变                      B. 屏幕保护程序无法改变  
C. 桌面图标无法改变                      D. 显示分辨率可以改变
4. 图标是 Windows 7 操作系统中的一个重要概念,它可以代表( )。
- A. 应用程序                      B. 文件夹                      C. 文档                      D. 图形
5. 关于 Word 2010 中的项目符号和编号,下列说法正确的有( )。
- A. 可以使用“插入”选项卡插入项目符号和编号  
B. 可以设置编号的起始页码与编号样式  
C. 可自定义项目符号为符号或图片  
D. 可自定义项目符号和编号的字体颜色
6. 下列 Excel 公式输入的格式中,正确的有( )。
- A. =SUM(1,2,...,9,10)                      B. =SUM(E1:E6)

- C. =SUM(A1:E7)                              D. =SUM("18","25",7)
7. 在 PowerPoint 2010 的幻灯片浏览视图中,可进行的操作有( )。
- A. 复制幻灯片                              B. 幻灯片文本内容的编辑修改  
C. 设置幻灯片的动画效果                      D. 可以进行“自定义动画”设置
8. 下列属于图像压缩标准的有( )。
- A. JPAG                      B. JPBG                      C. MPEG                      D. JPEG
9. Internet 提供的主要服务有( )。
- A. 文件传输                      B. 电子邮件                      C. 远程登录                      D. WWW
10. 下列有关电子邮件的说法中,正确的有( )。
- A. 电子邮件的邮局一般在接收方的个人计算机中  
B. 电子邮件是 Internet 提供的一项最基本的服务  
C. 通过电子邮件可以向世界上任何一个 Internet 用户发送信息  
D. 电子邮件可发送的多媒体信息只有文字和图像

**三、判断题(下列各题正确的打√,错误的打×,请将答案填写在答题卷上。本题共 15 小题,每小题 1 分,共 15 分)**

1. Windows 7 的回收站是一个系统文件夹。 ( )
2. 非活动窗口在后台运行,不能接收用户的键盘和鼠标输入等操作。 ( )
3. 在计算机中,1 K 个字节大约可以存储 1 000 个汉字。 ( )
4. 窗口的最小化即是将该应用程序关闭。 ( )
5. 添加项目符号或编号后,如果增加、移动或删除段落,Word 会自动更新或调整编号。 ( )
6. Excel 2010 的单元格区域是默认的,不能重新命名。 ( )
7. 删除幻灯片可以先选定要删除的幻灯片再按 Delete 键。 ( )
8. BMP 是一种声音文件。 ( )
9. 常用的文件压缩软件包括 WinZip 和 WinRAR,为了提高文件的压缩率,都采用了有损压缩方法。 ( )
10. 由 Photoshop 制作的图形放大到任意程度都不会失真。 ( )
11. 域名不分大小写,域名与域名之间加“:”分隔。 ( )
12. IP 地址是为每台主机确定的一个地区唯一性的地址。 ( )
13. 计算机病毒对计算机网络系统威胁不大。 ( )
14. Authorware、Director 均属于常用的多媒体创作工具软件。 ( )
15. 汇编语言的书写方式接近于人的思维习惯,使程序更易阅读和理解。 ( )

**四、填空题(请将答案填写在答题卷上。本题共 15 小题,每小题 1 分,共 15 分)**

1. 十六进制数 A1B2C3.45 的位权是\_\_\_\_\_。
2. 二进制运算:(1001)<sub>2</sub>-(111)<sub>2</sub>=\_\_\_\_\_。
3. 指令的执行过程分为 3 个步骤:取指令、分析指令和\_\_\_\_\_指令。
4. CPU 的时钟频率称为\_\_\_\_\_。
5. 计算机的驱动程序属于\_\_\_\_\_软件。
6. 存储器按所处位置的不同,可分为内存储器和\_\_\_\_\_。
7. 在 Windows 资源管理器中,为文件和文件夹提供了\_\_\_\_\_种显示方式。

8. 在 Word 2010 中,与真实打印效果一致的视图方式是\_\_\_\_\_。

9. 在 Excel 2010 中输入身份证号码时,应首先将单元格数据类型设置为\_\_\_\_\_型,以保证数据的准确性。

10. 在 Excel 2010 中,设单元格 A1~A4 的数值为 82,71,53,60,单元格 A5 使用公式“=IF(AVERAGE(A\$1:A\$4)>=60,"及格","不及格)”,则 A5 显示的值\_\_\_\_\_。

11. 幻灯片的版式是由\_\_\_\_\_组成的。

12. 通常顶级域名由三个字母组成,net 表示\_\_\_\_\_机构。

13. WWW 的默认端口是\_\_\_\_\_。

14. 将带有无线网卡的计算机介入无线网络的设备是\_\_\_\_\_。

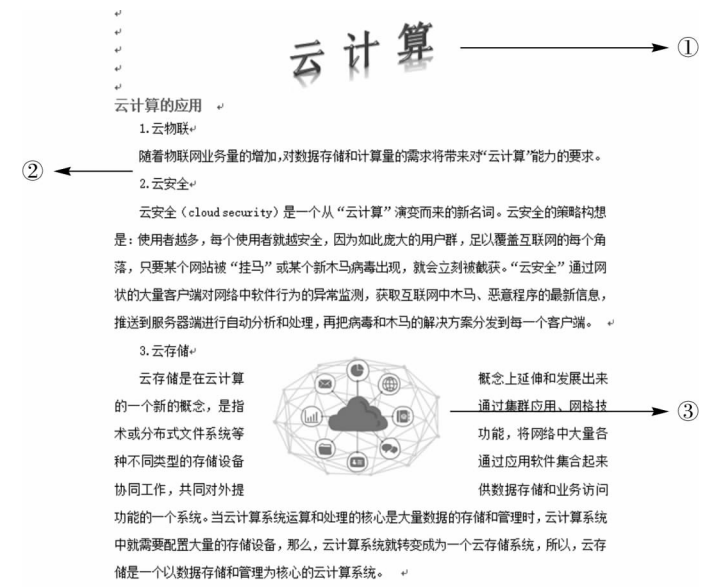
15. FTP 服务器通常提供\_\_\_\_\_和下载两种服务形式。

### 五、综合应用题(请将答案填写在答题卷上。本题共 3 小题,每小题 5 分,共 15 分)

1. 将二进制数 1110111100.11 转换为十进制数、八进制数和十六进制数。

2. 退出 PowerPoint 2010 的方式有哪些?

3. 在 Word 2010 中,请根据下图回答以下问题。



(1)指出该 Word 文档中的 3 处各采用了什么排版技术?(3 分)

(2)若想将文档中的小标题“1. 云物联”“2. 云安全”“3. 云存储”以突出显示,可如何进行设置?(2 分)

## 计算机基础考前冲刺卷(三)

一、单项选择题(下列各题仅有一个正确答案,请将答案填写在答题卷上。本题共 35 小题,每小题 1 分,共 35 分)

- 冯·诺依曼计算机的基本原理是( )。  
A. 数据内置 B. 程序存储 C. 自动计算 D. 程序外接
- 若要查找所有以 123 开头的文件,可使用的命令是( )。  
A. 123 \*.? B. 123?. \* C. 123. ??? D. 123 \*. \*
- CPU 不能直接访问的存储器是( )。  
A. ROM B. Cache C. RAM D. 硬盘
- 与八进制数 67.52 等值的十六进制数是( )。  
A. 37.2A B. 37.A8 C. D3.A2 D. DC.A8
- 二进制数进行“与”运算,11010110 $\wedge$ 10110111 的结果是( )。  
A. 00111111 B. 10001101 C. 10010110 D. 11110111
- 二进制数 100110.101 转换为十进制数是( )。  
A. 38.625 B. 46.5 C. 92.37 D. 216.125
- 下列字符中,ASCII 码值最大的是( )。  
A. y B. Z C. a D. 9
- 已知英文字母 m 的 ASCII 码值为 6DH,那么,码值为 4DH 的字母是( )。  
A. N B. M C. P D. L
- 操作系统是( )的接口。  
A. 软件和硬件 B. 计算机和外设  
C. 用户和计算机 D. 高级语言与机器语言
- 在 Windows 7 系统中,若鼠标指针变成“I”形状,则表示( )。  
A. 当前系统正在访问磁盘  
B. 可以改变窗口大小  
C. 可以改变窗口位置  
D. 鼠标指针出现处可以接收键盘的输入
- 在 Windows 7 中,要改变任务栏右端的时间显示形式,如把 14:11 更改为下午 2:11,可使用“控制面板”下的( )。  
A. “区域和语言”对话框 B. “日期和时间”对话框  
C. 外观和个性化 D. 系统
- 目前用于微型计算机系统的 CD 光盘有( )。  
A. 只读光盘 B. 可擦除光盘

- 一次性写入光盘 D. 以上都包括
- 随机存储器(RAM)的特点是( )。  
A. RAM 中既可写入信息,也可读出信息  
B. RAM 中只能写入信息  
C. RAM 中只能读出信息  
D. RAM 中既不可写入信息,也不可读出信息
- Access 2010 的数据库文件扩展名是( )。  
A. .db B. .accdb C. .sqldb D. .access
- 下列关于 Word 文本框操作的叙述中,正确的是( )。  
A. 可以将文本框的形状由矩形改为圆形  
B. 可以在文本框中插入文字和图形,但不能插入表格  
C. 不能设置文本框的三维立体效果  
D. 不能将文本框中文字的排列方式由竖改成横排
- 在 Word 表格计算中,其公式“=SUM(A1,D3)”含义是( )。  
A. 单元格 A1 与单元格 D3 相加  
B. 单元格 A1 与单元格 D3 之间的 12 个单元格相加  
C. 单元格 A1 与单元格 D3 相加,且结果存放在单元格 A1  
D. 单元格 A1 与单元格 D3 相加,且结果存放在单元格 D3
- 下列序列中,不能直接利用 Excel 2010 自动填充功能输入的是( )。  
A. 子、丑、寅、... B. 第一次、第二次、第三次、...  
C. 甲、乙、丙、... D. 星期一、星期二、星期三、...
- 在 Excel 2010 中,在输入数字作为文本使用时,需要输入的先导字符是( )。  
A. ,(逗号) B. ;(分号) C. '(单引号) D. "(双引号)
- 在 Excel 2010 中,单元格 B5、C5 的数据分别为 10、20,拖动鼠标选中 B5:C5 区域并单击工具栏“合并后居中”按钮,则单元格内容为( )。  
A. 10 B. 15 C. 20 D. 30
- 在 PowerPoint 2010 普通视图左侧的大纲窗格中,可以修改的是( )。  
A. 占位符中的文字 B. 图表 C. 自选图形 D. 文本框中的文字
- 为了使 PowerPoint 演示文稿的每张幻灯片在相同位置上显示相同的对象(图片或文字),最简单有效的办法是使用( )。  
A. 主题 B. 样式 C. 讲义母版 D. 幻灯片母版
- 快速以太网支持 100Base-TX 物理层标准,其中数字 100 表示的含义是( )。  
A. 传输距离 100 km B. 传输速率 100 Mb/s  
C. 传输速率 100 kb/s D. 传输速率 100 MB/s
- 下列属于合法 IP 地址的是( )。  
A. 192.168.1 B. 192.168.0.1 C. 192.168.0.256 D. 192 \* 168 \* 0 \* 1
- 下列关于 IPv4 地址的叙述中,正确的是( )。  
A. 一台主机只能设置一个 IP 地址  
B. IP 地址就是计算机的硬件地址

- C. IP 地址由网络号和主机号构成  
 D. 同一台计算机在任意地理位置连入互联网(Internet),其 IP 地址始终不变
25. Internet 上有许多应用,其中可以用来访问远端计算机的是( )。  
 A. E-mail      B. Telnet      C. WWW      D. FTP
26. 统一资源定位符简称( ),是指导 Internet 网络中的每个资源文件统一命名的机制。  
 A. NIC      B. IP      C. DNS      D. URL
27. 能够为中断电脑自动分配网络参数的服务是( )。  
 A. DHCP      B. DNS      C. FTP      D. WWW
28. OSI 参考模型的最高层是( )。  
 A. 表示层      B. 网络层      C. 应用层      D. 会话层
29. 下列关于位图与矢量图的叙述中,正确的是( )。  
 A. 相对于位图而言,矢量图占用的存储空间较大  
 B. 位图放大后不会变模糊,矢量图放大后会变模糊  
 C. 矢量图和位图不能相互交换  
 D. 图像的分辨率是位图的一个重要指标,而矢量图与分辨率无关
30. 一幅分辨率为 1 280×1 024 的 8 : 8 : 8 的 RGB 彩色图像,其存储容量约为( )MB。  
 A. 2.34      B. 3.75      C. 30      D. 1.2
31. 音频文件格式有很多种,下列不可能包含人的声音信号的是( )格式。  
 A. MPEG      B. MP3      C. MIDI      D. WAV
32. 加密算法若按照密钥的类型可以分为( )两种。  
 A. 公开密钥加密算法和对称密钥加密算法  
 B. 公开密钥加密算法和算法分组密码  
 C. 序列密码和分组密码  
 D. 序列密码和公开密钥加密算法
33. ( )是指拥有数据库技术支持的计算机系统,它可以实现有组织地、动态地存储大量相关数据,提供数据处理和信息资源共享服务。  
 A. 数据库系统      B. 数据库管理系统      C. 数据库技术      D. 数据库设计
34. 程序设计中的算法结构不包括( )。  
 A. 选择结构      B. 循环结构      C. 顺序结构      D. 逻辑结构
35. ( )获取的检测数据通过自动化控制设备能够定时地数据采集、信息转换和信息上传。  
 A. 互联网      B. 物联网传感器      C. 局域网      D. 广域网

**二、多项选择题(下列各题至少有两个正确答案,请将答案完整地写在答题卷上,少选或多选均不得分。本题共 10 小题,每小题 2 分,共 20 分)**

1. 计算机的特点主要有( )。  
 A. 具有记忆和逻辑判断能力      B. 运算速度快,但精度低  
 C. 可以进行科学计算,但不能处理数据      D. 存储容量大,通用性强
2. 下列选项中,属于微机主要性能指标的有( )。  
 A. 运算速度      B. 内存容量  
 C. 能配备的设备数量      D. 接口数

3. 相对于外部存储器,内存具有的特点包括( )。  
 A. 存取速度快      B. 容量相对大      C. 价格较贵      D. 永久性存储
4. 下列设备中,属于输入设备的有( )。  
 A. 显示器      B. 打印机      C. 鼠标      D. 扫描仪
5. 下列各组应用中,属于多媒体技术应用的有( )。  
 A. 计算机辅助教学      B. 远程登录      C. 远程医疗      D. 视频会议
6. 在 Windows 7 中,下列打开“资源管理器”的方法正确的有( )。  
 A. 单击“开始”按钮,在菜单中选择“计算机”  
 B. 右击任务栏,在出现的快捷菜单中选择“打开 Windows 资源管理器”  
 C. 在桌面空白处右击,在出现的快捷菜单中选择“打开 Windows 资源管理器”  
 D. 右击“开始”按钮,在出现的快捷菜单中选择“打开 Windows 资源管理器”
7. 要保存一个文件,可以执行的操作包括( )。  
 A. 单击快速访问工具栏上的“保存”按钮  
 B. 选择“文件”→“保存”命令  
 C. 利用组合键 Ctrl+S  
 D. 利用组合键 Ctrl+F12
8. 剪贴板的操作包括( )。  
 A. 选择      B. 复制      C. 剪切      D. 移动
9. 下列选项中,属于视频文件格式的有( )。  
 A. MP3      B. RM      C. GIF      D. WMV
10. 下列操作中,可以有效保障计算机安全的有( )。  
 A. 设置用户权限      B. 更新系统补丁      C. 清理垃圾文件      D. 设置系统密码

**三、判断题(下列各题正确的打√,错误的打×,请将答案填写在答题卷上。本题共 15 小题,每小题 1 分,共 15 分)**

1. 在 ASCII 的编码中,字符“A”和“a”的编码相同。 ( )
2. 不同的计算机系统具有不同的机器语言和汇编语言。 ( )
3. 如果路径中的第一个符号为“\”,则表示从根目录开始,即该路径为相对路径。 ( )
4. 已知 X 的补码为 11110110,则[X]<sub>原</sub> = 1110110。 ( )
5. OSI 参考模型中共有四个层级。 ( )
6. 多媒体技术中,压缩比是衡量数据压缩技术的重要指标之一。 ( )
7. 图像数字化后每个像素所占二进制位数就是该图像所包含的颜色数。 ( )
8. 在 Word 2010 中设置分栏后,各栏栏宽必须相等。 ( )
9. 一个工作簿中包括多个工作表,在保存工作簿文件时,只保存有数据的工作表。 ( )
10. SmartArt 图形只能在 PowerPoint 2010 中应用,而在 Word 2010 中不能使用。 ( )
11. 通配符“?”只能代替一个字符。 ( )
12. BMP、WMF、WMV 文件格式都属于图像文件格式。 ( )
13. 百度是著名搜索引擎之一。 ( )
14. 调制解调器的主要功能是实现数字信号的放大与整形。 ( )
15. 计算机病毒只有在某些条件下被激活之后,才开始起干扰破坏作用。 ( )



四、填空题(请将答案填写在答题卷上。本题共 15 小题,每小题 1 分,共 15 分)

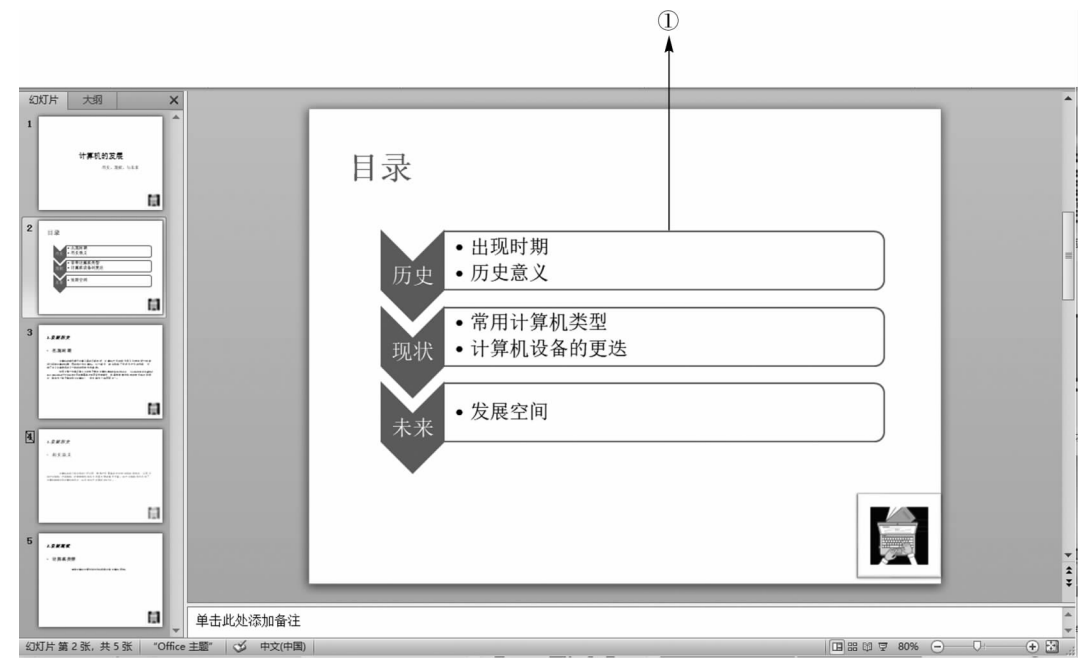
1. 两个 8 位二进制表示的补码分别为 10110111、00110011,相加后得到的结果用反码表示是\_\_\_\_\_。
2. CPU 能一次处理数据的位数称为\_\_\_\_\_。
3. 十六进制的基数是\_\_\_\_\_。
4. 一条计算机指令中规定其执行功能的部分称为\_\_\_\_\_。
5. 快捷方式的扩展名为\_\_\_\_\_。
6. 双绞线分屏蔽双绞线和\_\_\_\_\_双绞线。
7. 能够看到 Word 2010 文档的分栏效果的页面格式是\_\_\_\_\_视图。
8. 在 Excel 中,\_\_\_\_\_是指正在处理的单元格。
9. 为创建包含内容与格式相同或相近的幻灯片的演示文稿,可以使用 PowerPoint 的\_\_\_\_\_功能。
10. 计算机网络的主要功能是实现\_\_\_\_\_和数据通信。
11. 通常用于回路测试的 IP 地址是\_\_\_\_\_。
12. 计算机网络按使用范围划分为广域网、城域网和\_\_\_\_\_。
13. 某图像所能表示的最大颜色数是 256,则该图像的颜色深度为\_\_\_\_\_。
14. 在关系模型中,与二维表中“行”对应的是\_\_\_\_\_。
15. 非法接收者试图从密文分析出明文的过程称为\_\_\_\_\_。


五、综合应用题(请将答案填写在答题卷上。本题共 3 小题,每小题 5 分,共 15 分)

1. 除了常见的 Windows 7 操作系统,还有哪些用过、见过或者听说过的操作系统?(至少列举四个)

2. 简述邮件合并的基本步骤。

3. 在 PowerPoint 2010 中,请根据下图回答下列问题。



- (1)图中①处标记表示第 2 张幻灯片添加了\_\_\_\_\_对象,需要通过\_\_\_\_\_选项卡进行设置。(2 分)
- (2)图中“幻灯片窗格”中的标志,表示对第 4 张幻灯片进行了\_\_\_\_\_设置。(1 分)
- (3)在所有幻灯片的右下角均有相同的图标,这是使用了\_\_\_\_\_功能。(1 分)
- (4)为实现第 2 张幻灯片到最后一张幻灯片的跳转,应使用超链接或\_\_\_\_\_命令。(1 分)



24. 在 PowerPoint 2010 中,下列关于幻灯片切换的说法不正确的是( )。

- A. 一张幻灯片可同时设置多种切换方式
- B. 可设置切换音效
- C. 可用鼠标单击切换
- D. 可设置自动换片时间

25. 下列关于 IP 地址的说法中,正确的是( )。

- A. IP 地址只能是英文字母的组合
- B. IP 地址可以用英文字母,也可以用中文
- C. IP 地址由二进制数组成
- D. IP 地址可以是数字形式、英文字符形式和中文形式

26. 在 OSI 参考模型中,把传输的比特流划分为帧的层次是( )。

- A. 网络层
- B. 数据链路层
- C. 传输层
- D. 分组层

27. 下列关于域名的说法正确的是( )。

- A. 域名长度可以设置为 256 个字符
- B. 域名中的英文字母不区分大小写
- C. 没有域名主机就不能上网
- D. 域名可以反映主机的物理地点

28. 为了保护个人隐私,可以消除的上网痕迹中不包括( )。

- A. 浏览器历史记录
- B. 地址栏下拉列表
- C. 下载的历史记录
- D. 本机 IP 地址

29. 以下 Internet 应用中,违反《中华人民共和国计算机信息系统安全保护条例》的是( )。

- A. 侵入网站获取机密
- B. 参加网络远程教学
- C. 通过电子邮件与朋友交流
- D. 到 CCTV 网站看电视直播

30. 计算机病毒最本质的特性是( )。

- A. 寄生性
- B. 潜伏性
- C. 破坏性
- D. 攻击性

31. 下列关于计算机语言的描述中,错误的是( )。

- A. 计算机可以直接执行的是机器语言程序
- B. 汇编语言是一种依赖于计算机的低级语言
- C. 高级语言可读性好、数据结构丰富
- D. 与低级语言相比,高级语言程序的执行效率高

32. 下列有关算法和程序关系的叙述中,正确的是( )。

- A. 算法与程序是一一对应的
- B. 算法必须使用程序设计语言进行描述
- C. 算法是程序的简化
- D. 程序是算法的具体实现

33. 在 Access 2010 中,字段的有效性规则主要用于( )。

- A. 限定字段的数据类型
- B. 限定字段数据的格式
- C. 设置字段的数据是否有效
- D. 限定数据的取值范围

34. 手机导航能实时提示前方路况,主要体现了大数据的( )特征。

- A. 数据体量巨大
- B. 速度快
- C. 数据类型多
- D. 价值密度低

35. 2021 年 4 月 28 日,住房和城乡建设部、工业和信息化部印发通知,确定北京、上海、广州、武汉、长沙、无锡 6 个城市为智慧城市基础设施与智能网联汽车协同发展第一批试点城市。智慧城市是在( )、云计算等新一代信息技术的支撑下,形成的一种新型信息化的城市形态。

- A. 电子商务
- B. 物联网
- C. 高铁
- D. 生物科技

二、多项选择题(下列各题至少有两个正确答案,请将答案完整地写在答题卷上,少选或多选均不得分。本题共 10 小题,每小题 2 分,共 20 分)

1. 下列四条叙述中,不正确的有( )。

- A. 字节通常用英文单词“bit”来表示
- B. 目前广泛使用的 Pentium 机其字长为 5 个字节
- C. 计算机存储器中将 8 个相邻的二进制位作为一个单位,这种单位称为字节
- D. 微型计算机的字长并不一定是字节的倍数

2. 关于汉字外码,下列说法不正确的有( )。

- A. 汉字外码是用于将汉字输入到机器内所使用的编码
- B. 一个好的外码应具有编码短、重码少、好学好记等特点
- C. 汉字外码一定是等长编码
- D. 汉字外码有音码、形码和字模点阵码

3. 下列存储器中,CPU 能直接访问的有( )。

- A. 内存储器
- B. 硬盘存储器
- C. Cache
- D. 光盘

4. 下列为合法的十六进制数的有( )。

- A. 10011
- B. 555
- C. BH2
- D. G26

5. 下列选项中,属于 Word 2010 缩进效果的有( )。

- A. 两端缩进
- B. 分散缩进
- C. 左缩进
- D. 右缩进

6. 关于 Word 文档中的页面设置,下列叙述正确的有( )。

- A. 除了首页外,其他页的页眉必须相同
- B. 不同节的页眉可以不同
- C. 奇数页与偶数页的页眉可以不同
- D. 插入页码的编号必须从 1 开始

7. 在 Excel 2010 工作表中单元格 A1 到 A3 求和,正确的公式有( )。

- A. =A1+A2+A3
- B. =SUM(A1+A3)
- C. =SUM(A1:A3)
- D. =(A1+A2+A3)

8. PowerPoint 2010 文档在制作完成后,可以保存为( )文件。

- A. 演示文稿
- B. 演示文稿模板
- C. Web 页
- D. JPEG

9. 下列选项中,属于 Internet 提供的信息服务功能的有( )。

- A. 实时控制
- B. 文件传输
- C. 辅助系统
- D. 电子邮件

10. 下列选项中,属于 Access 2010 数据库对象的有( )。

- A. 查询
- B. 元组
- C. 报表
- D. 属性

三、判断题(下列各题正确的打√,错误的打×,请将答案填写在答题卷上。本题共 15 小题,每小题 1 分,共 15 分)

1. 事务处理、情报检索和知识系统等是计算机在科学计算领域的应用。 ( )
2. 多台计算机相连,就形成了一个网络系统。 ( )
3. 子网掩码可以用来判断任意两台计算机的 IP 地址是否属于同一子网。 ( )
4. 在 Windows 7 中,文件名可以包含空格。 ( )
5. 只要将文件属性设置为“隐藏”,便无法显示该文件。 ( )
6. Word 2010 中文档的分栏操作,最多只能分为三栏。 ( )
7. 在 Excel 2010 中,单元格区域 A1:A3 中各单元格中的数据依次为 2、4、6,若将该单元格区域进行“合并单元格”操作,则合并后的单元格内容为 2。 ( )
8. WWW 是一个基于纯文本的信息检索工具,它将全世界 Internet 上的不同地点的信息连接在一起。 ( )
9. 若一台微机感染了病毒,只要删除所有带毒文件,就能消除所有病毒。 ( )
10. 程序设计语言处理系统(如 C 语言编译器)属于系统软件。 ( )
11. 用机器语言编写的程序执行速度较慢,用高级语言编写的程序执行速度快。 ( )
12. 矢量图形进行放大后,仍能保持原来的清晰度,且色彩不失真。 ( )
13. 计算机职业道德包括不应该复制或利用没有购买的软件,不应该在未经他人许可的情况下使用他人的计算机资源。 ( )
14. 新华社与搜狗公司合作,成功开发了虚拟主播“新小萌”,以新华社主播为原型,栩栩如生地模仿了该主播的言谈举止,“新小萌”的开发主要使用了人工智能技术。 ( )
15. 微信支付、支付宝支付、滴滴打车等都包含着大数据在生活中的应用。 ( )

四、填空题(请将答案填写在答题卷上。本题共 15 小题,每小题 1 分,共 15 分)

1. 电子计算机之所以能够实现自动连续运算,是由于采用了存储程序和\_\_\_\_\_工作原理。
2. 国标码 GB2312—1980 规定的汉字编码,每个汉字用\_\_\_\_\_个字节表示。
3. 可将 Windows 中的文件直接删除,而不送回收站的快捷键是\_\_\_\_\_。
4. 软件是指使计算机运行所需的数据、\_\_\_\_\_和文档的统称。
5. 在 Windows 中,可使用快捷键\_\_\_\_\_进行“复制”操作。
6. 在 Word 2010 中输入一句英文,然后进行拼写检查,发现某单词下面有绿色波浪线,说明可能存在\_\_\_\_\_错误。
7. 在 Excel 2010 中,公式“=IF(4>0,3,6)”的结果是\_\_\_\_\_。
8. CSTNet 指的是\_\_\_\_\_。
9. IPv4 地址可分为 A、B、C、D、E 五类,一个 C 类网络可分配的主机 IP 地址的数量是\_\_\_\_\_。
10. 军事机构的顶级域名是\_\_\_\_\_。
11. MAN 表示\_\_\_\_\_。
12. 多媒体技术的特性包括:多样性、集成性、\_\_\_\_\_和实时性。
13. 为了增强机构内部网络的安全性,在内部网和外部网之间构成的保护屏障是\_\_\_\_\_。
14. \_\_\_\_\_是信息安全与保密的核心和关键。

15. 在结构化程序设计中,有一种结构能根据给定条件,判断是否需要反复执行某一段程序,这种结构称为\_\_\_\_\_结构。

五、综合应用题(请将答案填写在答题卷上。本题共 3 小题,每小题 5 分,共 15 分)

1. 在多媒体系统中,请简述音频的数字化过程。

2. 计算机信息安全所面临的威胁有哪些?

3. 在 Excel 2010 中,根据下图回答以下问题。

	A	B	C	D	E	F	G	H
1	期末考试成绩单							
2	学号	姓名	性别	大学语	大学数	大学英	计算机	总分
3	201201	潘阳	男	95	88	86	88	
4	201202	李晨	男	89	89	91	89	
5	201203	赵明月	女	88	91	92	90	
6	201204	吴可可	女	96	90	96	91	
7	201205	郑飞	男	80	78	90	88	
8	201206	张琪	女	92	88	89	83	

- (1)若要求出潘阳的总分,应在 H3 单元格中输入的公式是什么?(要求使用 SUM 函数)(1 分)
- (2)图中①处标记使用了什么功能?(1 分)
- (3)若要按性别统计出计算机成绩的平均分,应使用什么功能实现?请写出具体操作步骤。(3 分)